

5228 (3737)

Экономическая теория. Микроэкономика,

1.

(на соответствие)

Левая часть(А):

- 1)
- 2)
- 3)
- 4)

Правая часть(В):

- 1)
- 2)
- 3)
- 4)

9. (60с.) Указать один правильный ответ Экономическая теория изучает...

(один ответ)

- 1) ограниченные ресурсы
- 2) экономические субъекты
- 3) безграничные потребности
- 4) экономическое поведение людей

11.

(на соответствие)

Левая часть(А):

- 1)
- 2)
- 3)
- 4)

Правая часть(В):

- 1)
- 2)
- 3)
- 4)

17. (60с.) Указать один правильный ответ: Экономические законы отличаются от законов природы тем, что они...

(один ответ)

- 1) реализуются через практическую деятельность людей
- 2) устанавливаются государством для регулирования экономики
- 3) действуют независимо от воли и сознания людей
- 4) создаются людьми и используются ими в практической деятельности

30. (60с.) Указать один правильный ответ: Кто считается родоначальником теории прав собственности:

(один ответ)

- 1) А. Смит
- 2) С. Пейович

- 3) Р. Коуз
- 4) О. Уильямсон

31. (60с.) Указать один правильный ответ: Какое из перечисленных положений не имеет отношения к экономической теории?

(один ответ)

- 1) экономические блага
- 2) безграничные потребности
- 3) эффективное использование ресурсов
- 4) неограниченные производственные ресурсы

32. (60с.) Указать один правильный ответ: Предметом экономической теории являются:

(один ответ)

- 1) производственные силы
- 2) методы и формы делового общения
- 3) технологический процесс, обеспечивающий рост производительности труда
- 4) взаимоотношения людей по созданию, распределению и потреблению жизненных благ в обществе

33. (60с.) Указать один правильный ответ: Какой из перечисленных вопросов решается на уровне микроэкономики:

(один ответ)

- 1) каким образом можно достичь полной занятости?
- 2) как стимулировать экономический рост?
- 3) как избавиться от инфляции?
- 4) как лучше распределить доходы семьи?

34. (60с.) Указать один правильный ответ: Основные элементы инструментария экономической науки:

(один ответ)

- 1) математические методы
- 2) теория систем
- 3) метод научной абстракции
- 4) теория игр

35. (60с.) Указать один правильный ответ: Наука экономика учит, как

(один ответ)

- 1) имея ограниченные ресурсы, лучше удовлетворить потребности производителей
- 2) имея неограниченные ресурсы, лучше удовлетворить потребности потребителей
- 3) имея ограниченные ресурсы, лучше удовлетворить потребности общества
- 4) имея неограниченные ресурсы, лучше удовлетворить потребности общества
- 5) имея ограниченные ресурсы, лучше удовлетворить потребности трудящихся

36. (60с.) Указать один правильный ответ: Нормативный метод экономического анализа заключается:

(один ответ)

- 1) в определении взаимосвязей между природой и обществом

- 2) в исследовании фактов, процессов, явлений с целью выяснения их сущности
- 3) в выявлении взаимосвязи между экономическими процессами и явлениями
- 4) в использовании экономических законов и принципов при решении определенных социально-экономических задач

38. (90с.) Установить соответствие между методами экономической теории и их содержанием

(на соответствие)

Левая часть(А):

- 1) Метод научной абстракции
- 2) Метод анализа
- 3) Метод индукции
- 4) Метод дедукции
- 5) Метод аналогии

Правая часть(В):

- 1) Умозаключение от общего к частному
- 2) Разделение целого на составные части и отдельное изучение каждой из них
- 3) Перенос свойств с известного на неизвестное
- 4) Умозаключение от частного к общему
- 5) Отвлечение от несущественного и выделение главной сущности

39. (90с.) Установить соответствие между подходами к построению экономической модели поведения человека и их содержанием:

(на соответствие)

Левая часть(А):

- 1) Материальный подход
- 2) Социально-психологический подход
- 3) Духовный

Правая часть(В):

- 1) удовлетворенность трудом, самореализация личности
- 2) эгоистический, корыстный, денежный интерес
- 3) престиж в коллективе, помощь другим, мораль, культура

40. (60с.) Указать один правильный ответ: Экономико-математическое моделирование позволяет:

(один ответ)

- 1) учитывать все возможности предприятий и национальной экономики
- 2) сравнивать экономическое развитие в разные временные интервалы
- 3) определять абсолютно точно параметры системы в разные периоды

41. (60с.) Указать один правильный ответ: К политическим условиям функционирования рынка не относится...

(один ответ)

- 1) Свободное ценообразование

- 2) Стабильность политических систем
- 3) Правовое обеспечение рыночных отношений
- 4) Демократия

42. (60с.) Указать один правильный ответ: Формирование цены в результате взаимодействия производителей и потребителей является \_\_\_\_\_ функцией рынка.

(один ответ)

- 1) Регулирующей
- 2) Ценообразующей
- 3) Посреднической
- 4) Информационной

43. (60с.) Указать один правильный ответ: К основным направлениям реформирования экономики РФ не относится ...

(один ответ)

- 1) Либерализация внешнеэкономической деятельности
- 2) Формирование механизмов социальной адаптации
- 3) Либерализация цен
- 4) Переход к административному регулированию экономики

44. (60с.) Указать один правильный ответ: Реализацию интересов рыночных субъектов и соединение интересов продавца и покупателя обеспечивает \_\_\_\_\_ функция рынка

(один ответ)

- 1) Стимулирующая
- 2) Санирующая
- 3) Информационная
- 4) Посредническая

45. (60с.) Указать один правильный ответ: Основной формой доходов наемных работников в смешанной экономике является...

(один ответ)

- 1) Бонусы
- 2) Заработная плата
- 3) Трансферты
- 4) Дивиденды по акциям

46. (60с.) Указать один правильный ответ: Экономическими субъектами в рыночной экономике являются...

(один ответ)

- 1) государство, банки, инвестиционные фонды
- 2) предприятия, аудиторские фирмы, финансово-промышленные группы
- 3) фирмы, государство, домохозяйства
- 4) домохозяйства, наемные работники, предприниматели

47. (60с.) Указать один правильный ответ: Натуральное хозяйство - форма хозяйства, где продукты производства для:

(один ответ)

- 1) обмена путём купли-продажи
- 2) удовлетворения потребностей самих участников процесса производства
- 3) удовлетворения общественных потребностей

48. (60с.) Указать один правильный ответ: Первичный классогенез связан, как правило:

(один ответ)

- 1) с возникновением частной собственности
- 2) с полным распадом общинных форм
- 3) со становлением товарно-денежных отношений
- 4) с монополизацией роли в общественном разделении труда

49. (60с.) Указать один правильный ответ: Характеристиками свободного рыночного хозяйства выступают:

(один ответ)

- 1) неограниченное число участников конкуренции
- 2) свободный доступ к рыночной информации
- 3) ограниченная роль правительства в экономике
- 4) верно все указанное

50. (60с.) Указать один правильный ответ: При простом товарном производстве товарами становятся

(один ответ)

- 1) факторы производства
- 2) информационные ресурсы
- 3) неэкономические блага
- 4) продукты труда

51. (60с.) Указать один правильный ответ: Социально-экономические отношения характеризуются

(один ответ)

- 1) отношениями обмена
- 2) технологией производства
- 3) отношениями собственности
- 4) разделением труда

52. (60с.) Указать один правильный ответ: Одной из черт традиционной экономической системы является

(один ответ)

- 1) открытость экономических связей
- 2) разделение труда и социализация производства
- 3) планомерное развитие экономики
- 4) универсальный характер производства

53. (60с.) Указать один правильный ответ: К важнейшим элементам рыночной системы не относится...

(один ответ)

- 1) спрос и предложение
- 2) цена

- 3) конкуренция
- 4) наличие общей цели

54. (60с.) Указать один правильный ответ: Для смешанной экономической системы не характерно

(один ответ)

- 1) активное участие государства в рыночных процессах
- 2) социальная направленность
- 3) товарное производство
- 4) осуществление экономической власти через административно- бюрократические методы

55. (60с.) Указать один правильный ответ: Наличие единого экономического центра характерно для ...

(один ответ)

- 1) традиционной экономики
- 2) рыночной экономики
- 3) смешанной экономики
- 4) командно-административной экономики

56. (60с.) Указать один правильный ответ: Товарное производство как форма хозяйствования существовало...

(один ответ)

- 1) только в плановой экономике
- 2) только в традиционной экономике
- 3) в традиционной, рыночной и плановой экономике
- 4) только в рыночной экономике

57. (60с.) Указать один правильный ответ: основополагающими принципами возникновения и функционирования плановой экономики являются...

(один ответ)

- 1) высокий уровень обобществления производства и наличие единого экономического центра
- 2) разделение труда и специализация производства
- 3) долгосрочное прогнозирование производства и управление потребительским спросом
- 4) составление и изменение макроэкономических пропорций

58. (60с.) Указать один правильный ответ: Какая из названных черт не характерна для натурального хозяйства:

(один ответ)

- 1) отсутствие единого национального хозяйства
- 2) отсутствие единого национального рынка
- 3) опосредованный рынком характер связи производителей и потребителей
- 4) использование людьми в основном естественных производительных сил

59. (60с.) Указать один правильный ответ: Проблема "что", "как" и "для кого" производить актуальны:

(один ответ)

- 1) для любой экономической системы
- 2) для смешанной экономики
- 3) для рыночной экономики
- 4) для хозяйственных систем с централизованным планированием

60. (60с.) Указать один правильный ответ: Какой из указанных признаков характеризует смешанную экономику?

(один ответ)

- 1) наличие совершенной конкуренции
- 2) отсутствие монополии в экономике
- 3) наличие частной и государственной собственности
- 4) невмешательство государства в экономику

61. (60с.) Указать один правильный ответ: Если экономические проблемы решаются и рынком и правительством, то экономика является:

(один ответ)

- 1) командной
- 2) рыночной
- 3) натуральной
- 4) смешанной

62. (60с.) Указать один правильный ответ: Условием возникновения рынка является:

(один ответ)

- 1) наличие конкуренции
- 2) превращение продукта в товар
- 3) общественное разделение труда
- 4) появление денег

63. (60с.) Указать один правильный ответ: Преимуществом рыночной системы по сравнению с административно-командной является

(один ответ)

- 1) быстрое и качественное удовлетворение общественных потребностей
- 2) денежная оценка выгоды, погоня за прибылью
- 3) диктат производителя над потребителем
- 4) открытая инфляция и безработица
- 5) тотальный дефицит товаров и услуг

64. (90с.) Указать один правильный ответ: Социально-ориентированная рыночная экономика означает

(один ответ)

- 1) рыночные отношения регулируются рынком, социальная защита потребителей
- 2) рыночные отношения регулируются производителями, социальная защита производителей
- 3) рыночные отношения регулируются потребителями, социальная защита потребителей
- 4) рыночные отношения регулируются государством в интересах общества, социальная защита потребителей
- 5) рыночные отношения регулируются государством в интересах общества, социальная защита нетрудоспособных и малоимущих

65. (60с.) Указать один правильный ответ: Роль государства в регулировании рыночной экономики с течением времени

(один ответ)

- 1) не изменяется
- 2) постепенно возрастает
- 3) остается на высоком уровне
- 4) снижается
- 5) остается на низком уровне

66. (60с.) Указать один правильный ответ: Домохозяйства - это экономическая единица, которая

(один ответ)

- 1) владеет ресурсами и стремится получить максимальное удовлетворение полезности
- 2) покупает ресурсы с целью получения максимального дохода
- 3) покупает ресурсы с целью минимизации своей полезности
- 4) владеет ресурсами и стремится получить максимальный доход

67. (60с.) Указать один правильный ответ: Товарное хозяйство - форма хозяйства, где продукты производятся для:

(один ответ)

- 1) удовлетворения потребностей самих участников процесса производства
- 2) обмена путем купли-продажи
- 3) удовлетворения общественных потребностей

68. (60с.) Указать один правильный ответ: Если экономические проблемы решаются и рынком, и правительством, то экономика является:

(один ответ)

- 1) смешанной
- 2) рыночной
- 3) командной
- 4) натуральной

69. (60с.) Указать один правильный ответ: Предположим, что все ресурсы в экономической системе используются таким образом, что наращивать производство одного продукта можно только сокращая производство другого. Экономист назовет такую ситуацию:

(один ответ)

- 1) эффективной
- 2) неэффективной
- 3) административно-командной системой
- 4) экономическим кризисом

70. (60с.) Указать один правильный ответ: Полное использование всех ресурсов на кривой производственных возможностей показывает любая:

(один ответ)

- 1) точка, лежащая вне кривой производственных возможностей
- 2) точка, лежащая внутри кривой производственных возможностей



- 3) точка, лежащая на кривой производственных возможностей
- 4) точка, лежащая на кривой производственных возможностей, в которой достигается наиболее полное удовлетворение потребностей членов общества

71. (60с.) Указать один правильный ответ: При каких условиях действует закон убывающей предельной производительности:

(один ответ)

- 1) при пропорциональном росте всех ресурсов
- 2) при условии, что запас всех ресурсов производителя неограничен в краткосрочном периоде
- 3) при условии, что не изменяются затраты хотя бы одного ресурса
- 4) при неограниченности трудовых ресурсов

72. (60с.) Указать один правильный ответ: На линии производственных возможностей рост производства одного вида продукта сочетается:

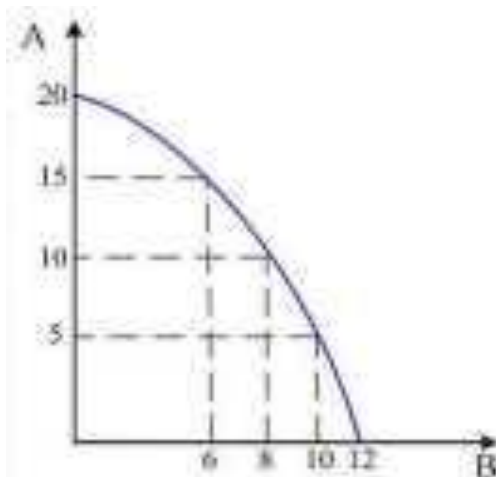
(один ответ)

- 1) с уменьшением производства другого вида продукта
- 2) с ростом производства другого вида продукта
- 3) с постоянным объемом производства другого вида продукта
- 4) возможен любой из указанных вариантов

73. (60с.) Указать один правильный ответ: На графике кривой производственных возможностей с продуктом X по абсциссе и продуктом Y по ординате угол наклона касательной к оси OX отражает:

(один ответ)

- 1) альтернативные издержки дополнительной единицы X, выраженные в единицах продукта Y
- 2) степень ограниченности продукта X
- 3) степень ограниченности продукта Y
- 4) не верен ни один из ответов



74. (60с.)

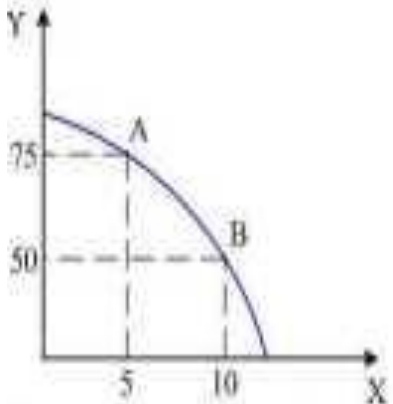
Указать один правильный ответ: В условиях данной кривой производственных возможностей экономики при производстве 10 ед. товара A и 6 ед. товара B объем выпуска товаров A и B может быть максимально увеличен соответственно

(один ответ)

- 1) товара A до 20 ед. и товара B до 8 ед

- 2) товара А до 20 ед. и товара В до 12 ед
- 3) товара А до 15 ед., при 8 ед. товара В
- 4) товара А до 15 ед. при 6 ед. товара В

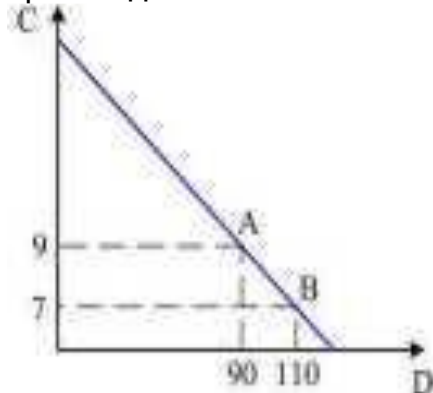
75. (60с.) Указать один правильный ответ: Дана графическая модель производственных возможностей экономики страны



При переходе из точки А в точку В альтернативные издержки производства единицы продукции X составят (один ответ)

- 1) 50 ед. продукции Y
- 2) 10 ед. продукции Y
- 3) 5 ед. продукции Y
- 4) 1/5 ед. продукции Y

76. (60с.) Указать один правильный ответ: Дана графическая модель производственных возможностей экономики



При переходе из точки А в точку В альтернативные издержки производства единицы товара D составят...

- (один ответ)
- 1) 2 ед. товара С
  - 2) 7 ед. товара С
  - 3) 10 ед. товара С
  - 4) 0,1 ед. товара С

77. (60с.) Указать один правильный ответ: Проблема, что производить не стоит, если: (один ответ)

- 1) ресурсы страны настолько ограничены, что должны быть использованы только для производства предметов первой необходимости
- 2) ресурсы достаточны, чтобы производить помимо всего прочего, предметы роскоши
- 3) закон убывающей производительности ресурсов не действует в конкретной национальной экономике
- 4) производственные ресурсы специфичны, т.е. могут быть использованы для производства только одного конкретного товара

78. (60с.) Указать один правильный ответ: Экономические блага - это (один ответ)

- 1) общественное богатство страны
- 2) желания людей в получении товаров и услуг
- 3) все товары и услуги, производимые в стране
- 4) все виды ресурсов, применяемые для производства товаров и услуг
- 5) все то, что люди хотели бы иметь для удовлетворения своих экономических потребностей

79. (60с.) Указать один правильный ответ: Альтернативная стоимость блага - это (один ответ)

- 1) стоимость других благ, от которых следует отказаться, чтобы получить данное благо
- 2) выгода, получаемая при использовании данного блага
- 3) то, что можно получить от данного блага
- 4) разница между выгодой от данного блага и издержками на его получение
- 5) то, что надо отдать за данное благо

80. (60с.) Указать один правильный ответ: Экономический интерес индивида-это потребность в (один ответ)

- 1) получении материальных благ
- 2) участия в производстве товаров и услуг
- 3) получении экономических ресурсов
- 4) участия в распределении экономических ресурсов
- 5) получении экономических благ

81. (60с.) Указать один правильный ответ: Сопоставление одной цели другой и оценка последствий решения характеризуют принцип экономической теории (один ответ)

- 1) человек выбирает
- 2) обмен благами может повысить благосостояние
- 3) люди заботятся о будущем
- 4) рациональный человек сравнивает выгоду с издержками
- 5) люди реагируют на изменение обстоятельств

82. (60с.) Указать один правильный ответ: К средствам труда относится всё то: (один ответ)

- 1) на что направлен человеческий труд
- 2) чем обладает человек

- 3) из чего получается продукт труда
- 4) с помощью чего человек воздействует на предмет труда

83. (60с.) Указать один правильный ответ: Предмет труда:  
(один ответ)

- 1) продукт процесса производства
- 2) совокупность материальных ресурсов
- 3) то, на что направлен труд и из чего в результате получается продукт труда
- 4) средство, с помощью которого производится продукт

84. (60с.) Указать один правильный ответ: Для студентов альтернативные издержки обучения в университете отражают:  
(один ответ)

- 1) затраты государства на образование среднестатистического специалиста
- 2) размер стипендии
- 3) максимальный заработок, который можно получить бросив учёбу
- 4) затраты родителей на содержание студента

85. (60с.) Указать один правильный ответ: Закон возрастания альтернативных издержек действует, если кривая производственных возможностей имеет:  
(один ответ)

- 1) выпуклую форму
- 2) вогнутую форму
- 3) форму прямой
- 4) любую форму

86. (60с.) Указать один правильный ответ: Что понимается под альтернативными затратами:  
(один ответ)

- 1) платежи за приобретенные ресурсы
- 2) стоимость экономических затрат на другом предприятии, производящем такую же продукцию
- 3) стоимость общественных затрат
- 4) стоимость альтернативных направлений использования тех же ресурсов

87. (60с.) Указать один правильный ответ: Если общество тратит сейчас свои ресурсы в основном на развитие средств производства, то в будущем  
(один ответ)

- 1) увеличится производство предметов потребления
- 2) снизится производство предметов потребления
- 3) снизится производство средств производства
- 4) увеличится производство средств производства и предметов потребления одновременно
- 5) увеличится производство средств производства

88. (60с.) Указать один правильный ответ: Закон изменения альтернативных издержек гласит  
(один ответ)

- 1) при увеличении объема выпуска продукта альтернативные издержки на его

производство снижаются

2) при уменьшении объема выпуска продукта альтернативные издержки на его производство снижаются

3) при уменьшении объема выпуска продукта альтернативные издержки на его производство не изменяются

4) при уменьшении объема выпуска продукта альтернативные издержки на его производство растут

5) при увеличении объема выпуска продукта альтернативные издержки на его производство увеличиваются

89. (60с.) Указать один правильный ответ: Альтернативные издержки продукта X это количество продукта

(один ответ)

1) X из которого можно произвести одну дополнительную единицу продукта Y

2) Y от которого надо отказаться чтобы получить одну дополнительную единицу продукта X

3) Y из которого можно произвести одну дополнительную единицу продукта X

4) X от которого надо отказаться чтобы получить одну дополнительную единицу продукта Y

5) Y которое нужно привлечь для наиболее эффективного производства продукта X

90. (60с.) Указать один правильный ответ: Альтернативные издержки продукта X определяются путем деления

(один ответ)

1) изменения количества продукта Y на количество продукта X

2) изменения количества продукта X на изменение количества продукта Y

3) изменения количества продукта Y на изменение количества продукта X

4) количества продукта X на количество продукта Y

5) количества продукта Y на количество продукта X

91. (60с.) Указать 4 правильных ответа: Производственные возможности страны возрастают при

(несколько ответов)

1) неполной занятости ресурсов

2) внедрении достижений технического прогресса

3) увеличении предложения ресурсов

4) снижении предложения ресурсов

5) увеличении производства предметов потребления

6) улучшении использования имеющихся ресурсов

7) увеличении производства средств производства

92. (60с.) Указать один правильный ответ: Кривая производственных возможностей показывает

(один ответ)

1) время когда вступает в действие закон убывающей производительности

2) лучшую из возможных комбинаций двух товаров

3) альтернативные комбинации товаров, которые можно произвести в данное время при наличии данного количества ресурсов и данной технологии

4) точное количество двух товаров которые экономика намерена производить

93. (60с.) Указать один правильный ответ: Кривая производственных возможностей сдвинется вправо и вверх, если в экономике

(один ответ)

- 1) уменьшится количество используемых производственных ресурсов
- 2) уменьшится добыча природных ископаемых
- 3) увеличится количество используемых производственных ресурсов
- 4) увеличится импорт товаров и услуг

94. (60с.) Указать один правильный ответ: Если экономика находится на кривой производственных возможностей, то инвестиционный бум приведет в долгосрочном периоде к:

(один ответ)

- 1) появлению дефицита государственного бюджета
- 2) инфляционному разрыву
- 3) сдвигу кривой производственных возможностей вправо
- 4) рецессионному разрыву

95. (60с.) Указать один правильный ответ: Что из перечисленного сдвинет кривую производственных возможностей вправо:

(один ответ)

- 1) открытие сталелитейных заводов, которые были ранее закрыты
- 2) использование оборудования для производства стали вместо ракет
- 3) наем на работу уволенных рабочих-сталеваров
- 4) открытие более эффективного способа производства стали
- 5) использование оборудования для производства ракет вместо стали

96. (60с.) Указать один правильный ответ: Когда предельная производительность растет, экономия от масштаба:

(один ответ)

- 1) возрастает
- 2) постоянна
- 3) убывает
- 4) данных недостаточно

97. Установить соответствие между средствами производства, предметами потребления и входящими в них элементами (по 5 ответов)

(на соответствие)

Левая часть(А):

- 1) Средства производства
- 2) Предметы потребления

Правая часть(В):

- 1) еда
- 2) одежда
- 3) оборудование
- 4) обувь
- 5) станки
- 6) инструменты
- 7) бытовая техника

- 8) промышленные агрегаты
- 9) производственные здания
- 10) услуги населению

98. Установить соответствие между экономическими понятиями и их содержанием (по 1 ответу)  
(на соответствие)

Левая часть(А):

- 1) Полный объем производства
- 2) Полная занятость ресурсов

Правая часть(В):

- 1) использование всех имеющихся ресурсов
- 2) удовлетворяющее общество использование имеющихся ресурсов
- 3) наиболее эффективное использование имеющихся ресурсов
- 4) полное использование всех ресурсов
- 5) максимальное производство товаров и услуг

99. Установить соответствие между положением точки на графике трансформации страны и последующими перспективами ее развития:  
(на соответствие)

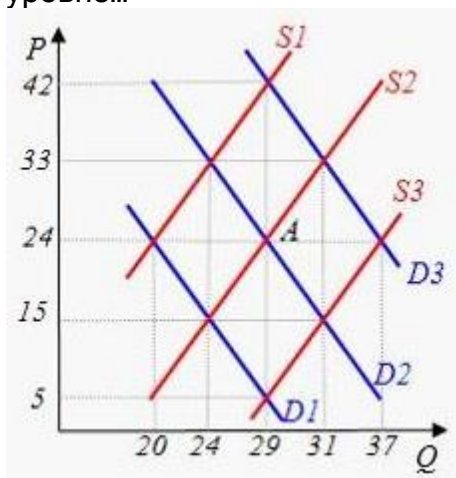
Левая часть(А):

- 1) Внутри кривой трансформации
- 2) Снаружи кривой трансформации
- 3) Вверху на кривой трансформации
- 4) Снизу на кривой трансформации.

Правая часть(В):

- 1) недоиспользование ресурсов и падение экономики
- 2) полное использование ресурсов и быстрый рост экономики
- 3) полное использование ресурсов и отсутствие роста экономики
- 4) недостижимое состояние экономики

100. (60с.) Исходное равновесие на рынке кофе соответствует точке А. Снижение цен на чай приведет в краткосрочном периоде к установлению равновесной цены на уровне...



- (один ответ)  
1) 15

- 2) 33
- 3) 24
- 4) 5

101. (60с.) Указать один правильный ответ: Рост спроса на товар на 7 % был вызван сокращением цены на товар на 2,5%. Можно сделать вывод, что это...

(один ответ)

- 1) Товары, независимые друг от друга в потреблении
- 2) Предмет роскоши
- 3) Товар с неэластичным предложением
- 4) Товар с эластичным спросом

102. (60с.) Указать один правильный ответ: При повышении цены товара на 18%, спрос на него снизился на 20%. Это означает, что коэффициент ценовой эластичности спроса равен...

(один ответ)

- 1) Коэффициент 10/9 спрос неэластичный
- 2) Коэффициент 9/10 спрос неэластичный
- 3) Коэффициент 9/10спрос эластичный
- 4) Коэффициент 10/9 спрос эластичный

103. (60с.) Если спрос и предложение заданы функциями:  $Q_d=1200-50P$  и  $Q_s=500+125P$ , то равновесная цена на данном рынке равна...

(один ответ)

- 1) 4
- 2) 10
- 3) 8
- 4) 2

104. (60с.) Указать один правильный ответ: Рост спроса на товар на 7% был вызван сокращением цены на товар на 2,5%. Можно сделать вывод, что это...

(один ответ)

- 1) предмет роскоши
- 2) товары независимые друг от друга в потреблении
- 3) товар с неэластичным предложением
- 4) товар с эластичным спросом

105. (60с.) Указать один правильный ответ: Снижение цены на 1% вызывает рост объемов продаж меньше, чем на 1%. Такая ситуация имеет место при...

(один ответ)

- 1) абсолютно неэластичном спросе
- 2) спросе с единичной эластичностью
- 3) неэластичном спросе
- 4) эластичном спросе

106. (60с.) Указать один правильный ответ: Если цена котельного топлива возросла на 10%, а величина спроса на него не изменилась, то можно утверждать, что спрос на котельное топливо...

(один ответ)



- 1) абсолютно эластичен по цене
- 2) эластичен по доходу
- 3) имеет единичную эластичность
- 4) абсолютно неэластичен по цене

107. (60с.) Указать один правильный ответ: Снижение цены на 10% привело к увеличению объема продаж на 8%. Значение коэффициента эластичности спроса по цене равно...

(один ответ)

- 1) 2
- 2) 0,8
- 3) 1,25
- 4) 0,4

108. (60с.) Указать один правильный ответ: Если бы эластичность спроса на утюги была нулевой, это означало бы, что:

(один ответ)

- 1) по имеющимся ценам можно продать любое количество утюгов
- 2) потребность в товаре полностью насыщена
- 3) данное количество утюгов будет куплено по сколь угодно высоким ценам
- 4) потребители не согласятся ни на какие изменения в объемах и ценах утюгов

109. (60с.) Указать один правильный ответ: Спрос на благо неэластичен по цене, если ценовая эластичность спроса:

(один ответ)

- 1) больше 2
- 2) меньше 1
- 3) больше 1, но меньше 2
- 4) меньше 0

110. (60с.) Указать один правильный ответ: Если спрос на жевательную резинку эластичен по цене, то уменьшение цены на нее приведет к:

(один ответ)

- 1) росту расходов населения на жевательную резинку
- 2) повышению спроса на жевательную резинку
- 3) снижению расходов населения на жевательную резинку
- 4) снижению спроса на продукты питания

111. (60с.) Указать один правильный ответ: Перекрестная эластичность спроса характеризует реакцию:

(один ответ)

- 1) цены одного товара на изменение цены другого товара
- 2) цены одного товара на изменение предложения другого товара
- 3) величины спроса одного товара на изменение цены другого товара
- 4) величины спроса одного товара на изменение спроса на другое благо

112. (60с.) Указать один правильный ответ: Закон предложения выражает:

(один ответ)

- 1) обратную связь между ценой и количеством продаваемого товара

- 2) связь между эластичным и неэластичным товарами
- 3) прямую связь между ценой и количеством продаваемого товара
- 4) меру эластичности каждого товара

113. (60с.) Указать один правильный ответ: Излишек потребителя - это сумма денег: (один ответ)

- 1) которая не нужна потребителю
- 2) которую выигрывает потребитель из-за разницы между ценой, которую он готов уплатить, и рыночной ценой
- 3) которую государство забирает у потребителя при помощи налогов
- 4) которую потребитель желает отдать тем фирмам-производителям, у которых наиболее высококачественная продукция

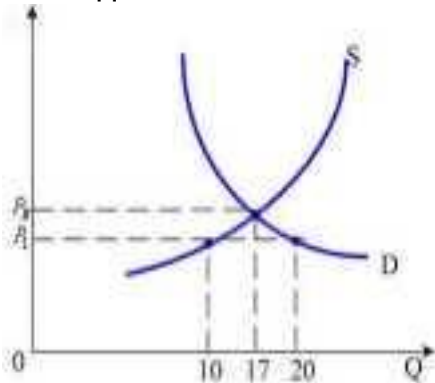
114. (60с.) Указать один правильный ответ: Пусть X, Y - взаимодополняющие (комплементарные) товары. При увеличении цены товара X равновесная цена товара Y:

- (один ответ)
- 1) увеличится
  - 2) не изменится
  - 3) снизится
  - 4) возможен любой из вариантов

115. (60с.) Указать один правильный ответ: Если при росте цены на товар со 100 до 200 ден. ед. объем спроса сократится с 30 до 20 шт., то спрос на данный товар является

- (один ответ)
- 1) абсолютно эластичным по цене ( $E_d = \infty$ )  
=бесконечности)
  - 2) эластичным по цене ( $E_d > 1$ )
  - 3) абсолютно неэластичным по цене ( $E_d = 0$ )
  - 4) неэластичным по цене ( $E_d < 1$ )

116. (60с.) Указать один правильный ответ: Если в краткосрочном периоде цена  $P_i$  на товар установлена ниже равновесной  $P_e$  (см. графическую модель), то будет наблюдаться ...



- (один ответ)
- 1) перепроизводство 7 ед. товара
  - 2) дефицит 10 ед. товара

- 3) перепроизводство 10 ед. товара
- 4) дефицит 7 ед. товара

117. (60с.) Указать один правильный ответ: Снижение цены на 10% привело к увеличению объема продаж на 8%. Значение коэффициента эластичности спроса по цене равно...

(один ответ)

- 1) (-2)
- 2) (0,4)
- 3) (-1,25)
- 4) (-0,8)

118. (60с.) Указать один правильный ответ: Если рост дохода на 30% привел к увеличению спроса на телевизоры на 6%, то эластичность спроса по доходу на этот товар равна...

(один ответ)

- 1) 1 и 1/6
- 2) 5
- 3) 1/3
- 4) 1/5

119. (60с.) Указать один правильный ответ: Если при снижении цены на 5% объем спроса вырастет на 9%, то коэффициент ценовой эластичности спроса на товар равен...

(один ответ)

- 1) (-0,55)
- 2) (4)
- 3) (-4)
- 4) (-1,8)

120. (60с.) Указать один правильный ответ: Если при коэффициенте перекрестной эластичности спроса на товар А по цене товара В равном  $E_d = (-3)$  произойдет рост цены товара В на 2%, то величина спроса на товар А...

(один ответ)

- 1) уменьшится на 2%
- 2) не изменится
- 3) увеличится на 3%
- 4) уменьшится на 6%

121. (60с.) Указать один правильный ответ: Массовый спрос на акции АО "МММ" в 1994 г. объясняется:

(один ответ)

- 1) эффектом сноба
- 2) спекулятивным спросом
- 3) эффектом Веблена
- 4) эффектом присоединения к большинству

122. (60с.) Указать один правильный ответ: Кривая рыночного спроса показывает:

(один ответ)

- 1) как будет снижаться потребление блага при сокращении доходов покупателей
- 2) как будет повышаться потребление блага при росте его цены
- 3) как будет снижаться потребление блага при росте его цены
- 4) как будет изменяться спрос в зависимости от инфляции

123. (60с.) Указать один правильный ответ: Если два товара взаимозаменяемы, то рост цены на первый товар вызывает:

(один ответ)

- 1) рост спроса на второй товар
- 2) падение спроса на второй товар
- 3) увеличение объема спроса на второй товар
- 4) падение величины спроса на второй товар

124. (60с.) Указать один правильный ответ: Какой из указанных факторов повышает рыночное предложение товара?

(один ответ)

- 1) понижение цены продаваемых товаров
- 2) увеличение налогов на прибыль
- 3) понижение цены покупаемых ресурсов
- 4) уменьшение числа продавцов товара

125. (60с.) Указать один правильный ответ: При прочих равных условиях, рост предложения приведет:

(один ответ)

- 1) к росту цены и снижению качества
- 2) к росту равновесной цены и равновесного объема
- 3) к снижению цены равновесия и равновесного объема
- 4) к снижению цены и увеличению объема продаж

126. Установить соответствие между понятиями спроса и предложения на рынке и их экономическим содержанием (по одному ответу):

(на соответствие)

Левая часть(А):

- 1) Спрос
- 2) Предложение

Правая часть(В):

- 1) количество товара, которое будут покупать производители по разным возможным ценам
- 2) количество товара, которое будут покупать потребители по одинаковым ценам
- 3) количество товара, которое будут покупать потребители по разным возможным ценам
- 4) количество товара, которое будут предлагать к продаже потребители по разным возможным ценам
- 5) количество товара, которое будут предлагать к продаже производители по разным возможным ценам
- 6) количество товара, которое будут предлагать к продаже производители по одинаковым ценам

127. Установить соответствие между спросом и предложением и неценовыми факторами-детерминантами, оказывающими влияние на их изменение (по пять ответов):

(на соответствие)

Левая часть(А):

- 1) Предложение
- 2) Спрос

Правая часть(В):

- 1) цены на сопряженные товары
- 2) число потребителей на рынке
- 3) ожидаемое изменение цен на товары
- 4) денежные доходы потребителей
- 5) налоги на бизнес
- 6) цены на ресурсы
- 7) число продавцов на рынке
- 8) вкусы и предпочтения потребителей

128. (60с.) Указать два правильных ответа: Закон спроса состоит в следующем (несколько ответов)

- 1) при увеличении рыночной цены спрос возрастает
- 2) при снижении рыночной цены спрос увеличивается
- 3) при увеличении спроса рыночная цена уменьшается
- 4) при снижении рыночной цены спрос падает
- 5) при увеличении рыночной цены спрос снижается

129. (60с.) Указать один правильный ответ: Эффект дохода состоит в том, что (один ответ)

- 1) при снижении цены уменьшается покупательная способность потребителей и они на один и тот же доход могут купить меньше товаров
- 2) при увеличении цены увеличивается покупательная способность потребителей и они на один и тот же доход могут купить меньше товаров
- 3) при снижении цены увеличивается покупательная способность потребителей и они на один и тот же доход могут купить больше товаров
- 4) при снижении цены увеличивается покупательная способность потребителей и они на один и тот же доход могут купить меньше товаров
- 5) при увеличении цены уменьшается покупательная способность потребителей и они на один и тот же доход могут купить больше товаров

130. (60с.) Указать один правильный ответ: Эффект замещения состоит в том, что (один ответ)

- 1) при более высокой цене данный товар дешевле против аналогичных товаров - заменители, цены на которые не изменились
- 2) при более высокой цене данный товар дешевле против аналогичных товаров - заменители, цены на которые снизились
- 3) при более низкой цене данный товар дорожает против аналогичных товаров - заменители, цены на которые увеличились
- 4) при более низкой цене данный товар дешевле против аналогичных товаров - заменители, цены на которые не изменились
- 5) при более низкой цене данный товар дорожает против аналогичных товаров -

заменители, цены на которые снизились

131. (60с.) Указать один правильный ответ: Взаимосвязь спроса и предложения состоит в том, что

(один ответ)

- 1) при увеличении предложения спрос уменьшается
- 2) при увеличении предложения спрос увеличивается
- 3) при увеличении спроса предложение уменьшается
- 4) при увеличении спроса предложение увеличивается
- 5) при снижении предложения спрос уменьшается

132. (60с.) Указать два правильных ответа: Следствие закона спроса состоит в том, что

(несколько ответов)

- 1) при увеличении спроса рыночная цена возрастает
- 2) при уменьшении спроса рыночная цена возрастает
- 3) при увеличении рыночной цены спрос снижается
- 4) при уменьшении спроса рыночная цена снижается
- 5) при увеличении спроса рыночная цена снижается

133. (60с.) Указать четыре правильных ответа: Спрос потребителей увеличится за счет неценовых факторов, если

(несколько ответов)

- 1) пройдет мода на данный товар
- 2) увеличится число потребителей на рынке
- 3) увеличатся доходы потребителей
- 4) объявлен прогноз инфляции
- 5) появится мода на данный товар
- 6) снизятся доходы потребителей
- 7) уменьшится число потребителей на рынке
- 8) увеличатся цены на сопряженные товары

134. (60с.) Указать один правильный ответ: Закон предложения состоит в следующем

(один ответ)

- 1) при увеличении предложения рыночная цена уменьшается
- 2) при увеличении предложения рыночная цена увеличивается
- 3) при увеличении рыночной цены предложение увеличивается
- 4) при увеличении рыночной цены предложение уменьшается
- 5) при снижении рыночной цены предложение увеличивается

135. (60с.) Указать два правильных ответа: Следствие закона предложения состоит в том, что

(несколько ответов)

- 1) при снижении рыночной цены предложение падает
- 2) при увеличении предложения спрос падает
- 3) при снижении предложения рыночная цена растет
- 4) при увеличении предложения рыночная цена падает

5) при увеличении рыночной цены предложение растет

136. (60с.) Указать четыре правильных ответа: Предложение производителей увеличится за счет неценовых факторов, если (несколько ответов)

- 1) снизятся цены на ресурсы для данного товара
- 2) растут дотации производителям
- 3) совершенствуется технология производства товара
- 4) снизятся цены на сопряженные товары
- 5) снизится число производителей на рынке
- 6) снизятся дотации производителям
- 7) увеличатся налоги
- 8) увеличатся цены на ресурсы для данного товара

137. (60с.) Указать один правильный ответ: Равновесная рыночная цена в условиях конкурентного рынка устанавливается в случае, если (один ответ)

- 1) спрос на товар меньше его предложения
- 2) предложение товара равно спросу на него
- 3) предложение товара больше спроса на него
- 4) предложение товара меньше спроса на него
- 5) спрос на товар больше его предложения

138. (60с.) Указать один правильный ответ: Если рыночная цена оказалась выше равновесной, то на конкурентном рынке без вмешательства государства (один ответ)

- 1) спрос больше предложения, образуется дефицит, цена повышается
- 2) предложение больше спроса, образуется избыток, цена повышается
- 3) предложение больше спроса, образуется дефицит, цена повышается
- 4) предложение больше спроса, образуется избыток, цена снижается
- 5) спрос больше предложения, образуется избыток, цена повышается

139. (60с.) Указать один правильный ответ: Ценовая эластичность спроса показывает:

(один ответ)

- 1) чувствительность производителя по выпуску продукции к изменению цены данного товара
- 2) чувствительность производителей по выпуску данного товара к изменению цены другого товара
- 3) чувствительность потребительского спроса на один продукт к изменению цены на другой продукт
- 4) чувствительность потребительского спроса на данный товар к изменению уровня жизни потребителя
- 5) чувствительность потребительского спроса на данный товар к изменению цены данного товара

140. Установить соответствие между рыночной ситуацией и соотношением спроса и предложения:

(на соответствие)

Левая часть(А):

- 1) Равновесная рыночная цена
- 2) Избыток товара
- 3) Дефицит товара

Правая часть(В):

- 1) спрос больше предложения
- 2) спрос равен предложению
- 3) спрос меньше предложения

141. Установить соответствие между состоянием рыночной цены и причинами ее изменения на конкурентном рынке (по 2 ответа)  
(на соответствие)

Левая часть(А):

- 1) Рыночная цена возрастает если
- 2) Рыночная цена снижается если
- 3) Рыночная цена не меняется если

Правая часть(В):

- 1) спрос падает при том же предложении
- 2) спрос растет при том же предложении
- 3) предложение растет пропорционально спросу
- 4) предложение падает пропорционально спросу
- 5) рост спроса опережает рост предложения
- 6) рост предложения опережает рост спроса

142. Установить соответствие между видами устанавливаемых государством цен и их содержанием (по 1 ответу)  
(на соответствие)

Левая часть(А):

- 1) Государственная цена пола
- 2) Государственная цена потолка

Правая часть(В):

- 1) устанавливается в интересах производителей, выше равновесной, выше поднимать нельзя
- 2) устанавливается в интересах производителей, выше равновесной, ниже опускать нельзя
- 3) устанавливается в интересах потребителей, ниже равновесной, выше поднимать нельзя
- 4) устанавливается в интересах потребителей, выше равновесной, выше поднимать нельзя
- 5) устанавливается в интересах потребителей, ниже равновесной, ниже опускать нельзя

143. Установить соответствие между величиной коэффициента эластичности спроса по доходу и степенью перспективности товара:  
(на соответствие)

Левая часть(А):

- 1) Равен нулю
- 2) Больше нуля
- 3) Меньше нуля



Правая часть(В):

- 1) товар высшей категории качества - перспективный
- 2) товар низкой категории качества - не перспективный
- 3) товар нейтральный, спрос на товар не зависит от доходов потребителей

144. (60с.) Указать один правильный ответ: Повсеместное государственное вмешательство в ценообразование имеет для общества следующие последствия (один ответ)

- 1) положительные
- 2) отрицательные
- 3) не влияет
- 4) положительные и отрицательные одновременно

145. (60с.) Указать один правильный ответ: Процентное изменение спроса на товар А при одновременном изменении цены на товар В выражает эластичность:

(один ответ)

- 1) дуговую
- 2) единичную
- 3) абсолютную
- 4) перекрестную

146. (60с.) Указать один правильный ответ: Рынок сигнализирует об увеличении спроса на товары путем:

(один ответ)

- 1) увеличения сбережений
- 2) уменьшения предложения
- 3) падения цен
- 4) роста цен

147. (60с.) Указать один правильный ответ: Возникновение избыточного спроса на товар объясняется тем, что

(один ответ)

- 1) равновесная цена выше цены товара
- 2) равновесная цена ниже цены товара
- 3) величина предложения превышает величину спроса
- 4) величина спроса превышает величину предложения

148. (60с.) Указать один правильный ответ: Закон спроса выражает:

(один ответ)

- 1) прямую связь между ценой и количеством продаваемого товара
- 2) меру эластичности каждого товара
- 3) связь между эластичными и неэластичными товарами
- 4) обратную связь между ценой и количеством продаваемого товара

149. (60с.) Указать один правильный ответ: Цена предложения - это:

(один ответ)

- 1) предельно низкая цена, по которой продавец ещё готов продать свой товар покупателю
- 2) предельно высокая цена, по которой продавец продаёт свой товар покупателю

- 3) предельно максимальная цена, за которую покупатель ещё согласен купить товар
- 4) предельно низкая цена, за которую покупатель желает приобрести товар

150. (60с.) Указать один правильный ответ: Ценой спроса называется  
(один ответ)

- 1) предельно высокая цена, по которой продавец продает свой товар покупателю
- 2) предельно низкая цена, по которой продавец еще готов продать свой товар покупателю
- 3) предельно максимальная цена, за которую покупатель еще согласен купить товар
- 4) предельно низкая цена, за которую покупатель желает приобрести товар

151. (60с.) Указать один правильный ответ: При увеличении цены товара эффект замещения означает:

(один ответ)

- 1) снижение потребления данного товара и увеличение потребления других товаров
- 2) снижение потребления данного товара и никаких изменений в потреблении других товаров
- 3) снижение потребления данного товара и других товаров
- 4) повышение потребления данного товара и снижение потребления других товаров

152. (60с.) Указать один правильный ответ: Спрос считается эластичным, если:  
(один ответ)

- 1) при 1%-ном снижении цены спрос увеличивается более чем на 1%
- 2) при 1%-ном увеличении цены спрос увеличивается тоже на 1%
- 3) увеличение цены не вызывает существенных изменений спроса

153. (60с.) Указать один правильный ответ: Закон предложения выражает:  
(один ответ)

- 1) прямую связь между ценой и количеством продаваемого товара
- 2) обратную связь между ценой и количеством продаваемого товара
- 3) связь между эластичными и неэластичными товарами
- 4) меру эластичности каждого товара

154. (60с.) Указать один правильный ответ: Рынок находится в равновесном состоянии, если объем:

(один ответ)

- 1) предложения равен объему производства
- 2) потребления равен объему производства
- 3) спроса равен объему потребления
- 4) спроса равен объему предложения

155. (60с.) Указать один правильный ответ: Рыночная цена товара выше равновесной. Это означает, что:

(один ответ)

- 1) дефицит
- 2) нужно увеличивать производство товаров
- 3) растет цена товара
- 4) возникает перепроизводство товаров

156. (60с.) Указать один правильный ответ: Предложение считается эластичным, если:

(один ответ)

- 1) увеличение цены не вызывает существенных изменений предложения
- 2) при 1%-ном увеличении цены предложение увеличивается более чем на 1%
- 3) при 1%-ном увеличении цены предложение сокращается более чем на 1%
- 4) при 1%-ном увеличении цены предложение увеличивается тоже на 1%

157. (60с.) Указать один правильный ответ: Сущность категории предложение наиболее точно раскрывает определение

(один ответ)

- 1) объем произведенной в обществе за год продукции в стоимостном выражении
- 2) объем товаров и услуг, который фирма производит
- 3) количество товаров и услуг, которые фирмы готовы продавать при данной цене
- 4) объем производства товаров и услуг в натуральном выражении

158. (60с.) Указать один правильный ответ: Спрос на товар будет не эластичным, если..

(один ответ)

- 1) общая выручка продавца сокращается, если цена растет
- 2) коэффициент ценовой эластичности меньше единицы
- 3) коэффициент ценовой эластичности больше единицы
- 4) общая выручка продавца возрастает, если цена снижается

159. (60с.) Указать один правильный ответ: На сдвиг кривой спроса не влияет изменение

(один ответ)

- 1) цены товара
- 2) ожидания покупателей
- 3) численность покупателей
- 4) доходы покупателей

160. (60с.) Указать один правильный ответ: На потребительский выбор не влияет...

(один ответ)

- 1) Технология производства
- 2) Доход потребителя
- 3) Предпочтения потребителя
- 4) Полезность благ

161. (60с.) Указать один правильный ответ: Эффект замещения (замены) в рамках теории потребительского выбора отражает изменение объема покупок товара вследствие изменения...

(один ответ)

- 1) Его относительной цены
- 2) Ожиданий потребителя
- 3) Моды или общепринятых норм
- 4) Благополучия потребителя

162. (60с.) Указать один правильный ответ: Точки, расположенные ниже данной кривой безразличия, характеризуют наборы благ с ...  
(один ответ)

- 1) Более высоким уровнем полезности
- 2) Более низкой стоимостью
- 3) Постоянным уровнем полезности
- 4) Более низким уровнем полезности

163. (60с.) Указать один правильный ответ: Систему предпочтений потребителя по двум наборам благ описывает кривая...  
(один ответ)

- 1) Лаффера
- 2) производственных возможностей
- 3) Филлипса
- 4) безразличия

164. (60с.) Указать один правильный ответ: Потребительские предпочтения можно представить с помощью функции...  
(один ответ)

- 1) производства
- 2) полезности
- 3) предложения
- 4) денег

165. (60с.) Указать один правильный ответ: Если для товара А величина спроса растет вместе с ростом цены, то товар А является:  
(один ответ)

- 1) товаром Гиффена
- 2) обычным товаром
- 3) малоценным товаром
- 4) товаром Гиффена и малоценным товаром

166. (60с.) Указать один правильный ответ: Следующий товар является малоценным:  
(один ответ)

- 1) шампанское
- 2) прошлогодние газеты
- 3) бумажные салфетки
- 4) путешествие в Альпы

167. (60с.) Указать один правильный ответ: Если будет изобретен вечный двигатель, то из теории потребительского поведения исчезнет постулат:  
(один ответ)

- 1) множественности видов потребления
- 2) транзитивности
- 3) ненасыщенности
- 4) все постулаты сохраняют свою силу

168. (60с.) Указать один правильный ответ: Основателем австрийской школы, представители которой развивали кардиналистскую теорию полезности, является:

(один ответ)

- 1) Г. Госсен
- 2) Е. Бем-Баверк
- 3) К. Менгер
- 4) Й. Шумпетер

169. (60с.) Указать один правильный ответ: В равновесии рациональный индивид потребляет 2 кг помидоров по цене 3 руб. за 1 кг и 4 кг груш по цене 5 руб. за 1 кг. Чему равна для него предельная норма замены груш помидорами:

(один ответ)

- 1) 2/4
- 2) 3/5
- 3) 1/4
- 4) 5/3

170. (60с.) Указать один правильный ответ: Наташа потребляет в месяц 2 кг мяса по цене 15 руб. за 1 кг и 5 кг хлеба по цене 2 руб. за 1 кг. Предельная норма замены мяса хлебом в состоянии равновесия для нее равна:

(один ответ)

- 1) 3/4
- 2) 5/2
- 3) 5/12
- 4) 2/15

171. (60с.) Указать один правильный ответ: Бюджетное ограничение для потребителя представляет собой:

(один ответ)

- 1) линию общей полезности товара
- 2) ограничение, налагаемое на выбор потребителя
- 3) линию предельной полезности товара
- 4) линию максимального удовлетворения потребителя

172. (60с.) Указать один правильный ответ: Для Саши потребление буханки хлеба ценой 2 руб. приносит удовлетворение в размере 10 утилей. Какое количество утилей удовлетворения принесет ему потребление литра молока по цене 5 руб., если он находится в состоянии равновесия:

(один ответ)

- 1) 10
- 2) 25
- 3) 20
- 4) 50

173. (60с.) Указать один правильный ответ: Если  $MU_x$  - предельная полезность хлеба, а  $MU_b$  - предельная полезность вина и  $P_x$  - цена батона хлеба,  $P_b$  - цена бутылки вина, то для рационального потребителя в состоянии равновесия будет верным следующее утверждение:

(один ответ)

- 1)  $MU_x = MU_b$
- 2)  $P_x = P_b$

3)  $MU_x : MU_y = P_x : P_y$

174. (60с.) Указать один правильный ответ: Изменение цены товара вызывает:  
(один ответ)

- 1) эффект замещения
- 2) эффект Гиффена
- 3) эффект дохода
- 4) эффект дохода и эффект замещения

175. (60с.) Указать один правильный ответ: Коля покупает подарки родным на Новый год. Что из следующих утверждений описывает проблему его рационального выбора:  
(один ответ)

- 1) Он купит подарок тогда, когда предельная полезность подарка будет соответствовать его цене
- 2) Его бюджет ограничен, поэтому он обращает внимание только на цену
- 3) Он не обращает внимания на цену и руководствуется только своими предпочтениями
- 4) Коля очень любит своих родных, поэтому принципы рационального выбора к нему не применимы

176. (60с.) Указать один правильный ответ: Увеличение цены обычного товара приводит к смещению равновесия потребителя на карте кривых безразличия (при прочих равных условиях):  
(один ответ)

- 1) вправо, вверх
- 2) влево, вверх или вниз
- 3) вправо, вниз
- 4) движение вдоль той же самой кривой безразличия

177. (60с.) Указать один правильный ответ: Оптимальное правило покупки состоит в следующем:  
(один ответ)

- 1) цена товара соответствует его общей полезности
- 2) наивысшая цена должна быть меньше предельной полезности товара
- 3) предельная полезность товара соответствует его цене
- 4) такого не существует, каждый руководствуется собственными представлениями

178. (60с.) Указать один правильный ответ: Ограничением рационального поведения потребителя является следующий факт:  
(один ответ)

- 1) люди делают ошибки
- 2) отсутствие необходимой информации
- 3) люди иррациональны по природе
- 4) люди делают ошибки, а также отсутствие необходимой информации

179. (60с.) Указать один правильный ответ: Предпочтения потребителя имеют следующий вид:

Количество единиц  
товара, в шт.

1      2      3      4      5

Общая по-  
лезность

100 120 135 145 153

Предельная полезность потребления третьей единицы блага равна:  
(один ответ)

- 1) 20
- 2) 10
- 3) 15
- 4) 8

180. (60с.) Указать один правильный ответ: Если рациональный потребитель тратит 10 руб. в день на мясо и 2 руб. на хлеб, то:

(один ответ)

- 1) рубль, истраченный на последний килограмм мяса, приносит столько же полезности, что и рубль, истраченный на последний килограмм хлеба
- 2) мясо приносит потребителю большую полезность, чем хлеб
- 3) потребитель предпочитает мясо, а не хлеб
- 4) предельная полезность мяса выше предельной полезности хлеба

181. (60с.) Указать один правильный ответ:

В положении равновесия Дима потребляет 2 кг помидоров по цене 3 руб. за 1 кг и 4 кг груш по цене 5 руб. за 1 кг. Чему равна для него предельная норма замены помидоров грушами

(один ответ)

- 1)  $2/5$
- 2)  $3/5$
- 3)  $1/4$
- 4)  $5/3$

182. (60с.) Указать один правильный ответ: В равновесии рациональный потребитель потребляет 2 кг. помидоров по цене 3 руб. за 1 кг. и 4 кг. груш по цене 5 руб. за 1 кг. Чему равна для него предельная норма замены груш помидорами:

(один ответ)

- 1)  $2/4$
- 2)  $3/5$
- 3)  $1/4$
- 4)  $5/3$

183. (60с.) Указать один правильный ответ: Предельная полезность товара А равна 100. Цена товара А равна 10. Цена товара В равна 5. Предельная полезность товара В в равновесии равна:

(один ответ)

- 1)  $1/2$
- 2) 50
- 3) 20
- 4) 10

184. (60с.) Указать один правильный ответ: Потребитель находится в равновесии, если

(один ответ)

- 1) предельные полезности всех приобретаемых товаров равны
- 2) цены всех приобретаемых товаров пропорциональны их общим полезностям
- 3) распределяет свой доход так, что последний рубль истраченный на покупку какого-либо товара приносит такой же прирост полезности как и рубль истраченный на покупку другого товара
- 4) не покупает товары низкого качества

185. (60с.) Указать один правильный ответ: Если предельная полезность равна нулю, то общая полезность товара

(один ответ)

- 1) будет отрицательной
- 2) достигнет минимума
- 3) будет также равна нулю
- 4) достигнет максимума

186. (60с.) Указать один правильный ответ: Закон убывающей предельной полезности отражает следующее положение...

(один ответ)

- 1) отношение предельной полезности к цене для предметов роскоши меньше, чем для товаров первой необходимости
- 2) отношения предельных полезностей к их ценам одинаковы
- 3) полезность покупаемых товаров убывает с ростом дохода потребителей
- 4) полезность каждой последующей единицы товара убывает с увеличением количества приобретаемых товаров

187. (60с.) Указать один правильный ответ: Целью потребителя является максимизация

(один ответ)

- 1) разницы между общей и предельной полезностью
- 2) средней полезности
- 3) предельной полезности
- 4) общей полезности

188. (60с.) Указать один правильный ответ: Условием равновесия потребителя является ...

(один ответ)

- 1) равенство предельной полезности предельным издержкам
- 2) равенство отношения предельной полезности товара к их цене по всем благам
- 3) равенство предельных полезностей благ
- 4) равенство предельной полезности благ предельной полезности денег

189. (60с.) Указать один правильный ответ: Потребитель ведет себя рационально с точки зрения

(один ответ)

- 1) государства
- 2) стороннего наблюдателя
- 3) предпринимателей
- 4) своей собственной



190. (60с.) Указать один правильный ответ: Эффект \_\_\_\_\_ проявляется как увеличение потребительского спроса на эксклюзивные дорогостоящие товары в связи с ростом их цены

(один ответ)

- 1) замещения
- 2) Веблена
- 3) Гиффена
- 4) дохода

191. (60с.) Указать один правильный ответ: Прирост общей полезности блага при увеличении потребления блага на одну единицу называется

(один ответ)

- 1) суммарной
- 2) единичной
- 3) предельной
- 4) положительной

192. (60с.) Указать один правильный ответ: Эффект замещения в рамках теории потребительского выбора отражает изменение объема покупок товара вследствие изменения...

(один ответ)

- 1) его относительной цены
- 2) номинального дохода потребителя
- 3) ожиданий потребителя
- 4) моды или общепринятых норм

193. (60с.) Указать один правильный ответ: Что происходит с предельной полезностью, если увеличивается объем потребляемого блага?

(один ответ)

- 1) постоянно повышается
- 2) постоянно уменьшается
- 3) сначала увеличивается, а потом падает
- 4) остается неизменной

194. (60с.) Указать один правильный ответ: Положение и наклон кривой безразличия для отдельного потребителя объясняется:

(один ответ)

- 1) только его предпочтениями
- 2) ценами покупаемых товаров и размерами дохода
- 3) его предпочтениями и размерами дохода
- 4) только ценами покупаемых товаров

195. (60с.) Указать один правильный ответ: Точка касания кривой безразличия и линии бюджетных ограничений:

(один ответ)

- 1) называется точкой потребительского равновесия
- 2) точкой равновесия цен и доходов
- 3) точкой равновесия цен

4) является одной из многих точек пересечения линии бюджетных ограничений и кривых карт безразличия

196. (60с.) Указать один правильный ответ: Правило потребительского поведения означает, что покупатель

(один ответ)

- 1) не покупает низкокачественные товары
- 2) максимизирует предельную полезность
- 3) извлекает некоторую разность между общей и предельной полезностью благ
- 4) совершает покупки так, чтобы последняя денежная единица, затрачиваемая на любой товар, приносила равновеликую полезность

197. (60с.) Указать один правильный ответ: Закон изменения предельной полезности гласит

(один ответ)

- 1) при увеличении потребления продукта полезность его каждой последующей единицы возрастает
- 2) при увеличении потребления продукта полезность его каждой последующей единицы снижается
- 3) при уменьшении потребления продукта полезность его каждой последующей единицы уменьшается
- 4) при уменьшении потребления продукта полезность его каждой последующей единицы увеличивается
- 5) при увеличении потребления продукта полезность его каждой последующей единицы не изменяется

198. (60с.) Указать один правильный ответ: Предельная полезность показывает полезность, получаемую потребителем от

(один ответ)

- 1) первой единицы потребленного товара
- 2) одной единицы потребленного товара в среднем
- 3) предыдущей единицы потребленного товара
- 4) каждой последующей единицы потребленного товара
- 5) всего количества потребленного товара

199. (60с.) Указать один правильный ответ: Бюджетная линия показывает различные комбинации

(один ответ)

- 1) стоимости двух продуктов, приобретаемых покупателем на увеличенный доход
- 2) полезности двух продуктов, приобретаемых покупателем на один и тот же доход
- 3) количества двух продуктов, приобретаемых покупателем на один и тот же доход
- 4) полезности двух продуктов, приобретаемых покупателем по неизменным ценам
- 5) стоимости двух продуктов, приобретаемых покупателем по неизменным ценам

200. (60с.) Указать один правильный ответ: Кривая безразличия показывает различные комбинации

(один ответ)

- 1) стоимости двух продуктов, дающих потребителю равный объем совокупной полезности

- 2) количества двух продуктов, дающих потребителю равный объем совокупной полезности
- 3) количества двух продуктов дающих потребителю повышенную полезность
- 4) полезности двух продуктов, дающих потребителю одинаковую совокупную полезность
- 5) полезность двух продуктов, получаемых потребителем за один и тот же доход

201. (60с.) Указать один правильный ответ: Равновесное положение потребителя (максимальная полезность при фиксированном доходе) достигается (один ответ)

- 1) при пересечении бюджетной линии и кривой безразличия
- 2) при касании бюджетной линии и кривой спроса
- 3) при касании бюджетной линии и кривой безразличия
- 4) при пересечении бюджетной линии с картой безразличия
- 5) при пересечении бюджетной линии и кривой спроса

202. (60с.) Указать один правильный ответ: Чтобы максимизировать полезность, потребитель должен:

(один ответ)

- 1) израсходовать весь доход на потребление
- 2) израсходовать свой доход так, чтобы общая полезность каждого товара в расчете на одну денежную единицу была одинаковой
- 3) оптимизировать приобретение товаров краткосрочного пользования
- 4) распределить доход так, чтобы предельная полезность каждого товара в расчете на одну денежную единицу была одинаковой

203. (60с.) Указать один правильный ответ: Полезность- это

(один ответ)

- 1) суждение о ценности того или иного блага
- 2) затраченный труд на производство потребительской стоимости
- 3) цена, по которой предлагается товар

204. (60с.) Указать один правильный ответ: Ценность не является выражением:

(один ответ)

- 1) естественной потребительской стоимости
- 2) общественной потребительской стоимости
- 3) полезности
- 4) перераспределения совокупных затрат труда в обществе

205. (60с.) Указать один правильный ответ: Потребительная стоимость товара реализуется в процессе:

(один ответ)

- 1) купли
- 2) купли-продажи
- 3) продажи
- 4) потребления

206. (60с.) Указать один правильный ответ: Теория потребительского поведения предполагает, что потребитель стремится максимизировать:

(один ответ)

- 1) предельную полезность
- 2) каждую из перечисленных величин
- 3) среднюю полезность
- 4) общую полезность

207. (60с.) Указать один правильный ответ: Если пятая порция мороженого за день не так вкусна, как первая, то это пример

(один ответ)

- 1) дефицита
- 2) убывающей предельной полезности
- 3) закона спроса
- 4) цены замены

208. (60с.) Указать один правильный ответ: Если потребитель приобретает товары А (ось У) и В (ось Х) и цена товара снизится, то бюджетная линия

(один ответ)

- 1) станет более крутой
- 2) переместится параллельно вниз и влево
- 3) станет более пологой
- 4) переместится параллельно вверх и вправо

209. (60с.) Указать один правильный ответ: Два набора благ, имеющие одинаковую полезность:

(один ответ)

- 1) лежат одной и той же кривой спроса
- 2) должны находиться на линии бюджетного ограничения
- 3) принадлежат одной кривой безразличия

210. (60с.) Указать один правильный ответ: Первичные потребности человека

(один ответ)

- 1) не могут быть взаимозаменяемыми
- 2) являются эластичными
- 3) зависят от дохода
- 4) могут быть взаимозаменяемыми

211. (60с.) Указать один правильный ответ: Увеличение количества применяемых факторов в раз вызвало рост объема производства больше, чем в  $n$  раз. Это характеристика...

(один ответ)

- 1) Закона возрастающей производительности
  - 2) Убывающей отдачи от масштаба
- 3) Возрастающей отдачи от масштаба
- 4) Постоянной отдачи от масштаба

212. (60с.) Указать один правильный ответ: Согласно закону убывающей производительности, если валовой продукт максимален, то ...

(один ответ)

- 1) Средний продукт равен 0
- 2) Предельный продукт равен 0
- 3) Предельный продукт отрицательный
- 4) Средний продукт отрицательный

213. (60с.) Указать один правильный ответ: Экономический рост, обусловленный увеличением количества используемых ресурсов, является...

(один ответ)

- 1) Качественным
- 2) Интенсивным
- 3) Количественным
- 4) Экстенсивным

214. (60с.) Указать один правильный ответ: Экономический рост является интенсивным, если...

(один ответ)

- 1) увеличение производства товаров и услуг происходит за счет привлечения дополнительных факторов производства
- 2) увеличивается заработная плата наемных рабочих
- 3) увеличение производства товаров и услуг, связано с совершенствованием технологий и улучшением качества ресурсов
- 4) рост производительности труда соответствует росту численности занятых

215. (60с.) Указать один правильный ответ: Интенсивный экономический рост имеет место при...

(один ответ)

- 1) неизменности органического строения капитала
- 2) наращивании объемов используемых ресурсов неизменного качества
- 3) неизменном уровне производительности труда
- 4) использовании более совершенных ресурсов

216. (60с.) Заполните пропуск:

Дополнительный объем выпуска, полученный в результате использования в процессе производства еще одной единицы этого ресурса при постоянстве других ресурсов, называется \_\_\_\_\_ продуктом.

(один ответ)

- 1) промежуточным
- 2) общим
- 3) предельным
- 4) средним

217. (60с.) Указать один правильный ответ: Область эффективности производства по графику объема и производительности расположена

(один ответ)

- 1) правее максимума предельной производительности
- 2) левее максимума предельной производительности
- 3) левее максимума объема производства
- 4) левее максимума средней производительности
- 5) правее максимума средней производительности

218. (60с.) Указать один правильный ответ: Закон изменения доходности (отдачи, предельной производительности) состоит в следующем (один ответ)

- 1) при наращивании применения переменного ресурса к неизменным фиксированным ресурсам отдача от переменного ресурса увеличивается
- 2) при снижении применения переменного ресурса к неизменным фиксированным ресурсам отдача от переменного ресурса возрастает
- 3) при снижении применения переменного ресурса к неизменным фиксированным ресурсам отдача от переменного ресурса падает
- 4) при увеличении применения переменного ресурса к неизменным фиксированным ресурсам отдача от переменного ресурса падает
- 5) при увеличении применения переменного ресурса к неизменным фиксированным ресурсам отдача от переменного ресурса не меняется

219. Установить соответствие между показателями производительности и их содержанием (по 1 ответу):  
(на соответствие)

Левая часть(А):

- 1) Средняя производительность
- 2) Предельная производительность

Правая часть(В):

- 1) величина объема производства в расчете на единицу продукции
- 2) величина переменного ресурса на каждую единицу объема производства
- 3) изменение объема производства на каждую последующую единицу переменного ресурса
- 4) изменение переменного ресурса на каждую дополнительную единицу объема производства

220. Установить соответствие между величиной производительности и способом ее определения по графику (по одному ответу)  
(на соответствие)

Левая часть(А):

- 1) Предельная производительность равна нулю
- 2) Предельная производительность максимальная
- 3) Средняя производительность максимальная

Правая часть(В):

- 1) по точке пересечения предельной производительности с осью объема производства
- 2) по точке пересечения средней и предельной производительности
- 3) по точке пересечения предельной производительности с осью ресурса
- 4) по точке пересечения средней производительности с осью ресурса
- 5) по точке первого изгиба объема производства
- 6) по точке первого изгиба объема ресурса

221. Установить соответствие между показателями производительности и формулами их расчета (по 1 ответу)

(на соответствие)

Левая часть(А):

- 1) Средняя производительность
- 2) Предельная производительность

Правая часть(В):

- 1) объем производства делится на объем потребляемого ресурса
- 2) изменение объема производства делится на объем потребляемого ресурса
- 3) изменение объема производства делится на изменение количества ресурса
- 4) изменение количества ресурса делится на объем потребляемого ресурса
- 5) объем производства делится на изменение количества ресурса

222. (60с.) Указать один правильный ответ: Совокупная прибыль фирмы рассчитывается как...

(один ответ)

- 1) Разность валового дохода и валовых издержек
- 2) Произведение цены и количества продукции
- 3) Разность цены и средних валовых издержек
- 4) Сумма совокупных постоянных и переменных издержек

223. (60с.) Указать один правильный ответ: С увеличением размеров предприятия средние долгосрочные издержки уменьшаются. Следовательно, речь идет о \_\_\_\_\_ эффекте масштаба.

(один ответ)

- 1) Нейтральном
- 2) Отрицательном
- 3) Положительном
- 4) Нулевом

224. (60с.) Указать один правильный ответ: Предприятие за месяц выпускает и реализует 100 наборов посуды. Если затраты на сырье и материалы составляют 1200 ден.ед., затраты на электроэнергию для обслуживания производства 300 ден.ед., заработная плата рабочих 500 ден.ед., постоянные издержки 300 ден.ед., тогда средние переменные издержки производства равны ... ден.ед.

(один ответ)

- 1) 15
- 2) 23
- 3) 20
- 4) 17

225. (60с.) Указать один правильный ответ: Производственный процесс, при котором главной причиной увеличения объема выпуска является повышение технического уровня, называется \_\_\_\_\_ производством

(один ответ)

- 1) Постиндустриальным
- 2) Интенсивным
- 3) Экстенсивным
- 4) Рациональным

226. (60с.) Указать один правильный ответ: Инвестиции могут осуществляться за счет...

(один ответ)

- 1) Амортизационного фонда фирмы
- 2) Социальных выплат
- 3) Отсрочки по выплате налогов
- 4) Увеличения потребления

227. (60с.) Указать один правильный ответ: Если фирма производит 10 ед. продукции по цене 130 ден. ед. каждая, а  $AFC=10$  ден.ед.,  $AVC=93$  ден.ед., то общая величина экономической прибыли (убытка) составляет \_\_\_\_\_ ден.ед.

(один ответ)

- 1) -370
- 2) 1200
- 3) -1300
- 4) 270

228. (60с.) Указать один правильный ответ: Если объем производства простой чистой монополии составляет  $Q=5$  ед., монопольная цена  $P=5$  тыс. ден.ед., а средние валовые издержки  $ATC=7$  тыс. ден.ед., то экономическая прибыль/экономический убыток простой чистой монополии составит \_\_\_\_\_ тыс. ден.ед.

(один ответ)

- 1) 20
- 2) -15
- 3) 15
- 4) -10

229. (60с.) Указать один правильный ответ: Если фирма получила валовой доход в размере 30 ден.ед., то 10 ед. продукции она реализовала по цене \_\_\_\_ ден.ед.

(один ответ)

- 1) 3
- 2) 10
- 3) 30
- 4) 300

230. Установить соответствие между видами эффективности и способами их расчета (по одному ответу):

(на соответствие)

Левая часть(А):

- 1) Абсолютная производственная эффективность
- 2) Относительная производственная эффективность

Правая часть(В):

- 1) из результата вычитаются затраты
- 2) из затрат вычитается результат
- 3) затраты делятся на результаты
- 4) результат делится на затраты
- 5) результат складывается с затратами
- 6) затраты умножаются на результат

231. (60с.) Указать один правильный ответ: Непрерывное возобновление процесса создания благ и услуг в увеличивающихся размерах называется ...

(один ответ)



- 1) воспроизводством
- 2) расширенным воспроизводством
- 3) производством
- 4) простым воспроизводством

232. (60с.) Указать один правильный ответ: Стоимость - это:  
(один ответ)

- 1) свойство товара обмениваться на другие товары в определённых пропорциях
- 2) затраты на производство продукции, которые несёт непосредственно производитель
- 3) воплощённый в товаре общественный труд
- 4) затраты мускульной и нервной энергии на производство товара

233. (60с.) Указать один правильный ответ: Что отличает товар от продукта?  
(один ответ)

- 1) качество
- 2) потребительские свойства
- 3) цена
- 4) затраченный на него труд

234. (60с.) Указать один правильный ответ: Общие издержки - это:  
(один ответ)

- 1)  $MC + AC$
- 2)  $FC + VC$
- 3)  $AFC + AVC$
- 4)  $AMC + AVC$

235. (60с.) Указать один правильный ответ: В точке минимальных средних издержек предельные издержки должны быть:  
(один ответ)

- 1) больше, чем средние издержки
- 2) равны средним издержкам
- 3) меньше, чем средние издержки
- 4) минимальными

236. (60с.) Указать один правильный ответ: Постоянными факторами производства для фирмы являются факторы:  
(один ответ)

- 1) не влияющие на спрос на данный товар
- 2) с постоянной ценой
- 3) фиксированные при различном выпуске продукции
- 4) определяемые размерами фирмы

237. (60с.) Указать один правильный ответ: Примером переменных факторов производства может быть:  
(один ответ)

- 1) электроэнергия
- 2) электроэнергия и сырьё
- 3) сырьё

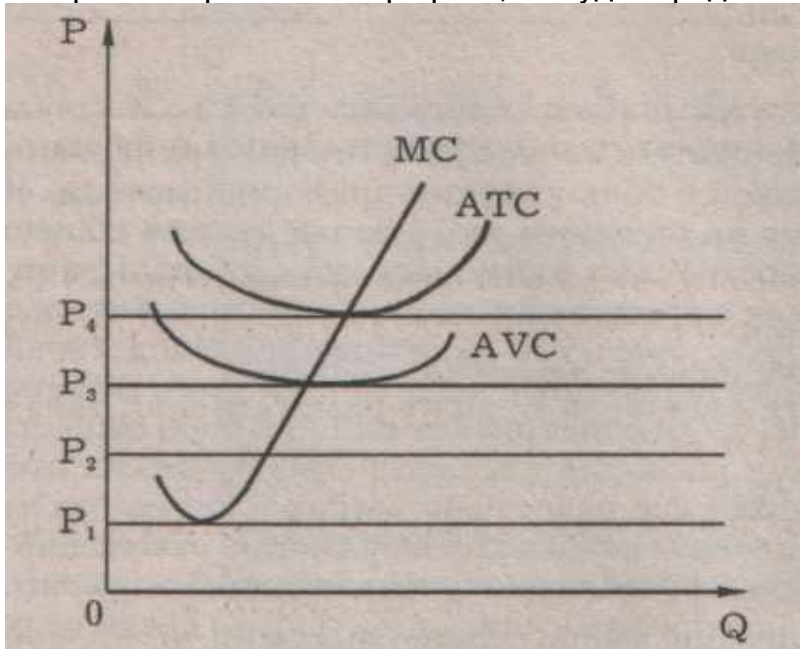
4) все перечисленные ответы неправильны

238. (60с.) Указать один правильный ответ: В точке минимума предельных издержек средние издержки должны быть:

(один ответ)

- 1) убывающими
- 2) постоянными
- 3) возрастающими
- 4) минимальными

239. (60с.) Указать один правильный ответ: При каком уровне цен фирма, издержки которой изображены на графике, не будет продолжать производство:



(один ответ)

- 1) только  $P_1$
- 2)  $P_1$   $P_2$   $P_3$
- 3)  $P_1$  и  $P_2$
- 4) при всех указанных уровнях

240. (60с.) Указать один правильный ответ: Какая формула из перечисленных верна:

(один ответ)

- 1) бухгалтерская прибыль + внутренние издержки = экономическая прибыль
- 2) экономическая прибыль + внутренние издержки = бухгалтерская прибыль
- 3) экономическая прибыль - бухгалтерская прибыль = внешние издержки
- 4) внешние издержки + внутренние издержки = выручка

241. (60с.) Указать один правильный ответ: Вознаграждение предпринимателя за новаторство является элементом:

(один ответ)

- 1) только экономической прибыли
- 2) экономической и нормальной прибыли
- 3) только бухгалтерской прибыли
- 4) экономической и бухгалтерской прибыли

242. (60с.) Указать один правильный ответ: Короткий период в микроэкономической теории - это отрезок времени, в течение которого:

(один ответ)

- 1) все факторы переменны
- 2) фирма не может изменить размеры своих сооружений, но может изменить количество используемых машин и оборудования
- 3) все факторы постоянны
- 4) фирма не может изменить ни размеры своих сооружений, ни количество используемых машин и оборудования

243. (60с.) Указать один правильный ответ: Издержки утраченных возможностей - это:

(один ответ)

- 1) фактические издержки, выраженные в деньгах
- 2) неявные издержки, начисляемые на расходы фирмы
- 3) сумма фактических и неявных издержек
- 4) разница между фактическими и неявными издержками

244. (60с.) Указать один правильный ответ: В краткосрочном периоде реакцией фирмы на небольшое повышение цены на выпускаемый ею товар будет:

(один ответ)

- 1) увеличение выпуска продукции
- 2) созыв совета специалистов для прогнозирования дальнейших возможных колебаний цены на рынке этого продукта
- 3) увеличение объема привлекаемых капитальных средств
- 4) попытка заплатить рабочим "старую" зарплату, пока они не узнали о повышении цен на производимый ими товар

245. (60с.) Указать один правильный ответ: Переменные факторы производства - это факторы:

(один ответ)

- 1) которые могут быть изменены достаточно быстро при изменении выпуска продукции
- 2) цена которых нестабильна
- 3) которые не могут быть изменены достаточно быстро при изменении выпуска продукции
- 4) цена на которые не может контролироваться

246. (60с.) Указать один правильный ответ: Какая формула правильно показывает соотношение бухгалтерской прибыли (БП), нормальной прибыли (НП) и чистой экономической прибыли (ЧП), если отсутствуют издержки на ресурсы предпринимателя:

(один ответ)

- 1)  $НП = БП + ЧП$
- 2)  $ЧП = БП - НП - \text{внешние издержки}$
- 3)  $БП = НП + ЧП$
- 4)  $БП = ЧП - НП$

247. (60с.) Указать один правильный ответ: Взаимосвязь между изменением масштаба производства и соответствующим изменением в объеме выпуска продукции называется...

(один ответ)

- 1) отдачей от фактора
- 2) эффектом масштаба
- 3) производственной функцией
- 4) производительностью труда

248. (60с.) Указать один правильный ответ: Материалоемкость продукции определяется отношением

(один ответ)

- 1) стоимости продукции к стоимости использованных на ее производство сырья и материалов
- 2) стоимости использованных сырья и материалов на производство продукции к стоимости самой продукции
- 3) стоимости труда, затраченного на производство продукции, к стоимости самой продукции
- 4) стоимости основного капитала, использованного при производстве продукции, к стоимости самой продукции

249. (60с.) Указать один правильный ответ: В краткосрочный период фирма производит 100 единиц товара при средних постоянных издержках - 5 руб. Если средние переменные издержки сократятся с 20 до 10 рублей, то общие издержки...

(один ответ)

- 1) возрастут на 10 руб
- 2) увеличатся на 1000 руб
- 3) сократятся на 1000 руб
- 4) уменьшатся на 10 руб

250. (60с.) Указать один правильный ответ: Функция спроса на продукцию монополиста  $P = 200 - Q$ . функция общих затрат  $TC = 100 + 3Q$ . Предельный доход от производства тридцатой единицы продукции равен...

(один ответ)

- 1) 210
- 2) 190
- 3) 170
- 4) 140

251. (60с.) Указать один правильный ответ: Если при выпуске 10 единиц продукции валовой доход составил 1540 руб., а при выпуске 12 единиц - 1580 руб., то предельный доход на единицу продукции будет

(один ответ)

- 1) 154 руб.
- 2) 131,7 руб.
- 3) 40 руб.
- 4) 20 руб.

252. (60с.) Указать один правильный ответ: Величина общих издержек предприятия

представлена функцией  $TC=5Q+30$ , где  $Q$  - объём произведённой продукции. Для этого предприятия величина постоянных издержек...

(один ответ)

- 1) равна 5
- 2) меньше 5
- 3) равна 30
- 4) неизвестна

253. (60с.) Указать один правильный ответ: Величина общих издержек предприятия на выпуск 13 изделий составляет 2080 ден. ед., а на производство 18 изделий - 2630 ден. ед. Для этого предприятия величина предельных издержек равна...

(один ответ)

- 1) 110 ден. ед.
- 2) неизвестна
- 3) 146,1 ден. ед.
- 4) 550 ден. ед.

254. (60с.) Указать один правильный ответ: Суммарный объём производимой продукции, выраженный в физических единицах, называется...

(один ответ)

- 1) средним продуктом
- 2) предельным продуктом
- 3) промежуточным продуктом
- 4) общим продуктом

255. (60с.) Если рассматривать фирму с точки зрения производственной функции, то оптимальные ее размеры достигаются в случае:

(один ответ)

- 1) 100% загрузки производственных мощностей
- 2) установление максимально высоких цен на выпускаемую продукцию
- 3) исчерпания экономии от масштабов производства
- 4) минимальных затрат на выпуск продукции

256. (60с.) Указать один правильный ответ: Постоянные издержки - это:

(один ответ)

- 1) неявные издержки
- 2) расходы на покупку вспомогательных материалов и инструментов
- 3) издержки на ресурсы по ценам, действующим в момент их приобретения
- 4) издержки, которые несет фирма даже в том случае, если продукция не производится

257. (60с.) Указать один правильный ответ: В краткосрочном периоде фирма, стремящаяся увеличить прибыль, расширит производство, если:

(один ответ)

- 1) рыночная цена на изделия фирмы, будет ниже постоянных издержек
- 2) рыночная цена выше общих издержек
- 3) рыночная цена выше переменных издержек
- 4) рыночная цена выше предельных издержек

258. (60с.) Указать один правильный ответ: Какие затраты относятся к постоянным:  
(один ответ)

- 1) арендная плата и стоимость оборудования
- 2) заработная плата, стоимость энергии
- 3) затраты на сырье
- 4) все производственные затраты, необходимые для выпуска продукции

259. (60с.) Указать один правильный ответ: В краткосрочном периоде фирма прекратит производство, если окажется, что:

(один ответ)

- 1) средние переменные издержки ниже цены
- 2) общий доход меньше общих издержек
- 3) цена меньше минимальных предельных издержек
- 4) общий доход меньше общих переменных издержек

260. (60с.) Указать один правильный ответ: Переменными издержками являются такие, которые на весь выпуск продукции

(один ответ)

- 1) не изменяются при изменении объема производства, а на единицу продукции меняются обратно пропорционально
- 2) меняются пропорционально изменению объема производства, а на единицу продукции не меняются
- 3) меняются обратно пропорционально изменению объема производства, а на единицу продукции меняются пропорционально
- 4) не изменяются при изменении объема производства, а на единицу продукции меняются прямо пропорционально
- 5) меняются пропорционально изменению объема производства, а на единицу продукции меняются обратно пропорционально

261. (60с.) Указать один правильный ответ: Постоянными издержками являются такие, которые на весь выпуск продукции

(один ответ)

- 1) меняются пропорционально изменению объема производства, а на единицу продукции меняются обратно пропорционально
- 2) не изменяются при изменении объема производства, а на единицу продукции меняются обратно пропорционально
- 3) не изменяются при изменении объема производства, а на единицу продукции тоже не меняются
- 4) меняются обратно пропорционально изменению объема производства, а на единицу продукции не меняются
- 5) меняются обратно пропорционально изменению объема производства, а на единицу продукции меняются прямо пропорционально

262. Установить соответствие между видами издержек и их содержанием (по 1 ответу):

(на соответствие)

Левая часть(А):

1) Постоянные издержки

2) Переменные издержки

Правая часть(В):

1) на весь выпуск продукции меняются пропорционально изменению объема производства, а на единицу продукции меняются обратно пропорционально

2) на весь выпуск продукции не изменяются при изменении объема производства, а на единицу продукции меняются обратно пропорционально

3) на весь выпуск продукции меняются пропорционально изменению объема производства, а на единицу продукции не меняются

4) на весь выпуск продукции не изменяются при изменении объема производства, а на единицу продукции тоже не меняются

263. Установить соответствие между видами издержек и входящими в них расходами (по три ответа):

(на соответствие)

Левая часть(А):

1) Постоянные издержки

2) Переменные

Правая часть(В):

1) сырье, материалы

2) топливо и энергия на технологические цели

3) зарплата рабочих-повременщиков

4) зарплата рабочих-сдельщиков

5) амортизация

6) арендная плата

264. Установить соответствие между видами издержек и способами их определения (по одному ответу):

(на соответствие)

Левая часть(А):

1) Средние постоянные издержки

2) Средние общие издержки

3) Средние переменные издержки

4) Предельные издержки

Правая часть(В):

1) абсолютная сумма переменных издержек делится на объем производства продукции

2) изменение общих издержек делится на изменение объема производства.

3) абсолютная сумма постоянных издержек делится на объем производства (выпуска) продукции

4) абсолютная сумма постоянных и переменных издержек делится на изменение объема производства

5) абсолютная сумма постоянных и переменных издержек делится на объем производства (выпуска) продукции

6) изменение общих издержек делится на объем производства (выпуска) продукции

265. (60с.) Указать один правильный ответ: Предельные издержки определяются путем

(один ответ)

- 1) деления изменения объема производства на изменение общих издержек
- 2) деления изменения объема производства на общие издержки
- 3) деления общих издержек на изменение объема производства
- 4) деления прироста общих издержек на изменение объема производства
- 5) деления прироста общих издержек на объем производства

266. (60с.) Указать один правильный ответ: Средние издержки определяются путем деления

(один ответ)

- 1) общих издержек на валовой доход
- 2) общих издержек на изменение объема производства
- 3) общих издержек на объем производства
- 4) изменения общих издержек на изменение валового дохода
- 5) изменения общих издержек на изменение объема производства

267. Установить соответствие между видами эффекта роста объема производства и факторами их вызывающими (по четыре ответа):

(на соответствие)

Левая часть(А):

- 1) Положительный эффект роста масштабов производства
- 2) Отрицательный эффект роста масштабов производства

Правая часть(В):

- 1) эффективное использование капитала
- 2) бюрократизация структуры управления
- 3) улучшение использования отходов и попутной продукции
- 4) некоторая потеря управляемости персоналом
- 5) специализация труда рабочих
- 6) специализация управленческого персонала
- 7) многозвенность управления
- 8) ухудшение контроля и организации производства

268. (60с.) Указать один правильный ответ: Выручка (валовой доход) фирмы определяется путем

(один ответ)

- 1) деления количества проданного товара на его цену
- 2) умножения количества произведенного товара на средние общие издержки
- 3) умножения количества произведенного товара на его цену
- 4) умножения цены товара на объем продаж в натуре
- 5) умножения количества проданного товара на средние общие издержки

269. (60с.) Указать один правильный ответ: Экономическая прибыль находится путем вычитания из

(один ответ)

- 1) выручки явных издержек
- 2) выручки явных издержек и неявных издержек
- 3) общих издержек неявных издержек
- 4) явных издержек неявных издержек



5) выручки неявных издержек

270. (60с.) Указать один правильный ответ: Бухгалтерская (финансовая) прибыль определяется путем вычитания из (один ответ)

- 1) выручки неявных издержек
- 2) общих издержек выручки
- 3) выручки явных издержек
- 4) общих издержек неявных издержек
- 5) выручки явных издержек и неявных издержек

271. Установить соответствие между результатами деятельности фирмы и соотношением валовых издержек и валового дохода (по одному ответу):

(на соответствие)

Левая часть(А):

- 1) Прибыль
- 2) Убыток

Правая часть(В):

- 1) Общие валовые издержки равны валовому доходу
- 2) Общие валовые издержки меньше валового дохода
- 3) Общие валовые издержки больше валового дохода.

272. (60с.) Указать один правильный ответ: Показатель рентабельности издержек определяется как 100% умноженные на: (один ответ)

- 1) (выручка от реализации минус неявные издержки) делятся на общие издержки
- 2) (выручка от реализации минус общие издержки) делятся на общие издержки
- 3) (общие издержки минус явные издержки) делятся на неявные издержки
- 4) (выручка от реализации минус предельные издержки) делятся на общие издержки
- 5) (выручка от реализации минус явные издержки) делятся на явные издержки

273. Установить соответствие между видами прибыли и способами их определения (по одному ответу):

(на соответствие)

Левая часть(А):

- 1) Бухгалтерская прибыль
- 2) Экономическая прибыль
- 3) Нормальная прибыль

Правая часть(В):

- 1) выручка от реализации минус явные издержки
- 2) неявные издержки
- 3) выручка от реализации минус неявные издержки
- 4) неявные издержки плюс явные издержки
- 5) выручка от реализации минус явные издержки минус неявные издержки

274. Установить соответствие между видами доходов и способами их определения: (по одному ответу):

(на соответствие)

Левая часть(А):

- 1) Валовой доход
- 2) Средний доход
- 3) Предельный доход

Правая часть(В):

- 1) выручка от реализации делится на объем произведенной продукции в натуре
- 2) объем произведенной продукции в натуре делится на изменение валового дохода
- 3) выручка от реализации делится на изменение валового дохода
- 4) изменение валового дохода делится на изменение объема производства в натуре
- 5) объем произведенной продукции в натуре умножается на среднюю рыночную цену единицы продукции

275. (60с.) Указать один правильный ответ: Экономическая прибыль равна разнице между:

(один ответ)

- 1) бухгалтерской и нормальной прибылью
- 2) внешними внутренними издержками
- 3) валовым доходов и общими издержками
- 4) валовым доходом и общими издержками

Правильные ответы

1.

276. (60с.) Указать один правильный ответ: Из перечисленных формул верна:

(один ответ)

- 1) бухгалтерская прибыль + внутренние издержки = экономическая прибыль
- 2) экономическая прибыль + бухгалтерская прибыль = внешние издержки
- 3) внешние издержки + внутренние издержки = общий доход
- 4) экономическая прибыль + внутренние издержки = бухгалтерская прибыль

277. (60с.) Указать один правильный ответ: Неявные издержки - это:

(один ответ)

- 1) затраты на комплектующие издержки
- 2) издержки на ресурсы, принадлежащие самому предпринимателю
- 3) заработная плата рабочих

278. (60с.) Указать один правильный ответ: Постоянными издержками для фирмы являются издержки, которые фиксированные относительно:

(один ответ)

- 1) технологии
- 2) уровня выпускаемой продукции
- 3) времени
- 4) минимальной зарплаты

279. (60с.) Указать один правильный ответ: Принимая решение об увеличении производства, фирма принимает во внимание:

(один ответ)

- 1) переменные издержки
- 2) предельные издержки

- 3) общие издержки
- 4) постоянные издержки

280. (60с.) Указать один правильный ответ: Если при данном объеме производства рыночная цена товара больше средних переменных издержек (AVC), фирме следует:  
(один ответ)

- 1) ничего не менять
- 2) уменьшить выпуск
- 3) увеличивать выпуск
- 4) прекратить производство

281. (60с.) Указать один правильный ответ: Американские корпорации ориентируются на максимизацию прибыли, японские - на максимизацию объема производства. Это ведет к:  
(один ответ)

- 1) повышению цен на товары японских фирм
- 2) снижению цен на товары японских фирм
- 3) частому разорению японских фирм
- 4) росту издержек производства товаров американских фирм

282. (60с.) Указать один правильный ответ: Экономическая прибыль меньше бухгалтерской на величину  
(один ответ)

- 1) амортизации
- 2) постоянных издержек
- 3) альтернативной стоимости собственных ресурсов фирмы
- 4) переменных издержек

283. (60с.) Указать один правильный ответ: Если в краткосрочном периоде фирма производит 500 единиц продукции, а средние постоянные издержки составляют 5 руб., а средние переменные 8 руб., то общие издержки на производство составят рублей.  
(один ответ)

- 1) 13
- 2) 6500
- 3) 4200
- 4) 2000

284. (60с.) Указать один правильный ответ: Производственный процесс, при котором увеличение объёма выпуска происходит за счёт использования большего количества переменного фактора, называется  
(один ответ)

- 1) индустриальным
- 2) интенсивным
- 3) экстенсивным
- 4) постиндустриальным